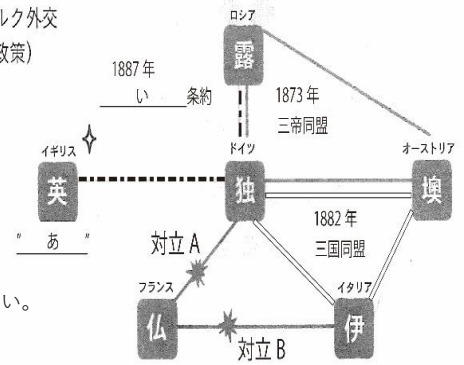


# 2020年 詳説世界史 復習テスト ～ 第08講① 西洋史 §32 ～

## 問1 図①を見て以下の問いに答えなさい。

- ① 空欄（あ）に入る語句を書きなさい。… 外交政策を象徴する言葉
- ② 空欄（い）に入る語句を書きなさい。… 関係強化条約
- ③ 対立Aの背景となった過去の出来事として、もっとも関係の薄いものを1つ答えなさい。  
a. 普仏戦争    b. スペイン継承戦争    c. イタリア戦争    d. クリミア戦争
- ④ 対立Bはアフリカ大陸にある国をめぐる生じた。ある国の名前を書きなさい。
- ⑤ 図にある「1873年：三帝同盟」一時崩壊した原因となった1878年の国際会議の名前を書きなさい。
- ⑥ この時代にイギリスは、インド帝国を成立させた。この時の英首相の名前を書きなさい。

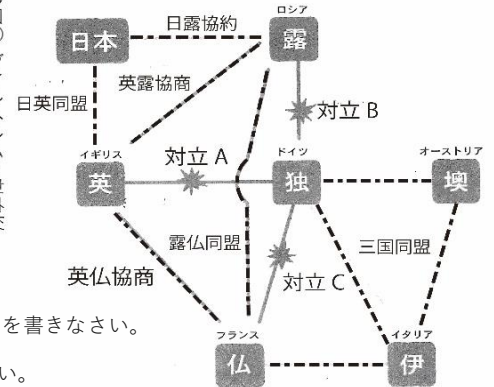
図① ビスマルク外交  
(仏の孤立化政策)



## 問2 図②を見て以下の問いに答えなさい。

- ⑦ 次の各国が結んだ同盟のうち、年代順に並べ替えた時、3番目にくるものはどれか。  
a. 英仏協商    b. 日英同盟    c. 露仏同盟    d. 英露協商
- ⑧ 対立Aに関して、イギリスの3C政策の3Cの3都市名を答えなさい。(完答)
- ⑨ 対立Bに関して、建艦競争において、ドイツ皇帝が提唱した政策名を漢字4字でかけ
- ⑩ 対立Bを生み出したドイツの新皇帝の名前を書きなさい。
- ⑪ 対立Cの対立の焦点となったアフリカ大陸にある国の名前を書きなさい。
- ⑫ 対立Cを背景にフランス国内で起きたスパイ容疑事件をきっかけに1905年に発布された法律名を書きなさい。
- ⑬ この頃に形成された独占の形態について述べた文章A・Bの文章中にある間違いを訂正しなさい。

図② ヴィルヘルム2世外交



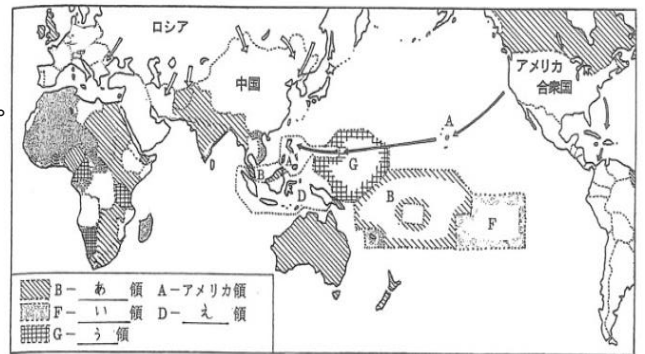
A：同種の企業間において企業合併を中心としたアメリカでのカルテル、同一の資本系統によって支配・統制されるコンツェルンなどがある。  
B：主な独占資本には、イギリスのロックフェラーやアメリカのカーネギーやドイツのクルップがある。

## 問3 労働運動と社会主義政党の台頭について、一問一答に答えなさい。

- ⑭ フランスでさかんになった、議会主義を否定し、労働組合による直接行動をめざす考え方をカタカナで何というか。
- ⑮ イギリスで、ウェット夫妻を中心に設立された社会主義政党の名前を書きなさい。
- ⑯ ビスマルクの失脚により再結成された政党がのちに中核となった、1889年に結成された国際労働者組織の名前を答えなさい。

## 問4 右の地図は、20世紀初頭の西欧列強の領土を示している。あ～えに当てはまる国名の組み合わせとして正しいものを選びなさい。

- a. あ-仏    い-蘭    う-英    え-独    b. あ-独    い-仏    う-蘭    え-英
- c. あ-英    い-仏    う-独    え-蘭    d. あ-蘭    い-英    う-独    え-仏



## 問5 帝国主義時代のアメリカについての文中にある2つの間違いを訂正せよ。

マッキンリー大統領は米西戦争に勝利してハワイやフィリピンを獲得し、太平洋に進出し、中国への門戸開放宣言をジョン=ヘイに出させた。  
その後、共和党のT=ローズヴェルトが棍棒外交を唱えて、カリブ海政策を遂行するなかで、ベネズエラからパナマを独立させ、新たに運河を着工した。

①		②		③		④	
⑤		⑥		⑦		⑧	
⑨		⑩		⑪		⑫	
⑬ A		⑬ B		⑭		⑮	
⑯		問 4		問 5			

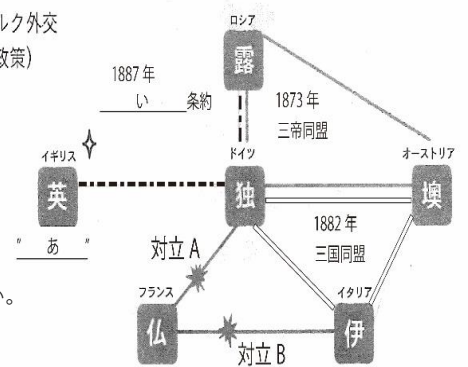
# 2020年 詳説世界史 復習テスト(解答)

## ～ 第08講① 西洋史 §32 ～

### 問1 図①を見て以下の問いに答えなさい。

- ① 空欄 (あ) に入る語句を書きなさい。… 外交政策を象徴する言葉
- ② 空欄 (い) に入る語句を書きなさい。… 関係強化条約
- ③ 対立Aの背景となった過去の出来事として、もっとも関係の薄いものを1つ答えなさい。  
a. 普仏戦争    b. スペイン継承戦争    c. イタリア戦争    d. クリミア戦争
- ④ 対立Bはアフリカ大陸にある国をめぐって生じた。ある国の名前を書きなさい。
- ⑤ 図にある「1873年：三帝同盟」一時崩壊した原因となった1878年の国際会議の名前を書きなさい。
- ⑥ この時代にイギリスは、インド帝国を成立させた。この時の英首相の名前を書きなさい。

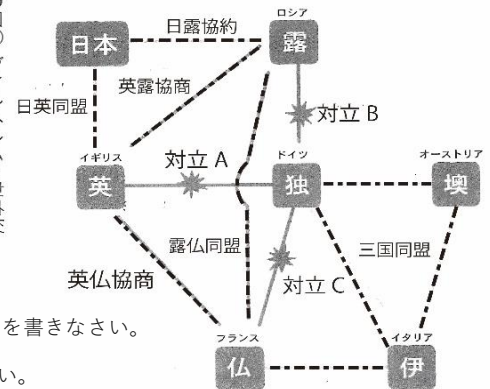
図① ビスマルク外交 (仏の孤立化政策)



### 問2 図②を見て以下の問いに答えなさい。

- ⑦ 次の各国が結んだ同盟のうち、年代順に並べ替えた時、3番目にくるものはどれか。  
a. 英仏協商    b. 日英同盟    c. 露仏同盟    d. 英露協商
- ⑧ 対立Aに関して、イギリスの3C政策の3Cの3都市名を答えなさい。(完答)
- ⑨ 対立Bに関して、建艦競争において、ドイツ皇帝が提唱した政策名を漢字4字でかけ
- ⑩ 対立Bを生み出したドイツの新皇帝の名前を書きなさい。
- ⑪ 対立Cの対立の焦点となったアフリカ大陸にある国の名前を書きなさい。
- ⑫ 対立Cを背景にフランス国内で起きたスパイ容疑事件をきっかけに1905年に発布された法律名を書きなさい。
- ⑬ この頃に形成された独占の形態について述べた文章A・Bの文章中にある間違いを訂正しなさい。

図② ヴィルヘルム2世外交



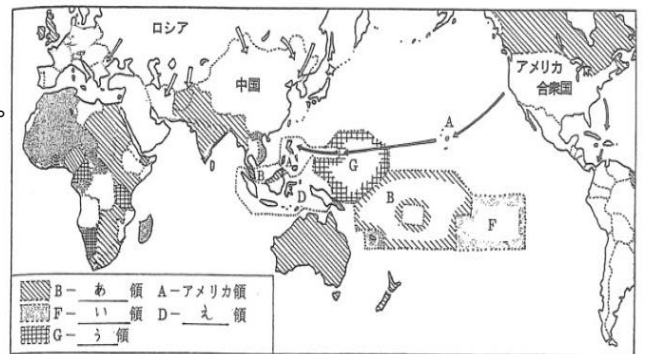
A：同種の企業間において企業合併を中心としたアメリカでのカルテル、同一の資本系統によって支配・統制されるコンツェルンなどがある。  
B：主な独占資本には、イギリスのロックフェラーやアメリカのカーネギーやドイツのクルップがある。

### 問3 労働運動と社会主義政党の台頭について、一問一答に答えなさい。

- ⑭ フランスでさかんになった、議会主義を否定し、労働組合による直接行動をめざす考え方をカタカナで何というか。
- ⑮ イギリスで、ウェット夫妻を中心に設立された社会主義政党の名前を書きなさい。
- ⑯ ビスマルクの失脚により再結成された政党がのちに中核となった、1889年に結成された国際労働者組織の名前を答えなさい。

### 問4 右の地図は、20世紀初頭の西欧列強の領土を示している。あ～えに当てはまる国名の組み合わせとして正しいものを選びなさい。

- a. あ-仏    い-蘭    う-英    え-独    b. あ-独    い-仏    う-蘭    え-英
- c. あ-英    い-仏    う-独    え-蘭    d. あ-蘭    い-英    う-独    え-仏



### 問5 帝国主義時代のアメリカについての文中にある2つの間違いを訂正せよ。

マッキンリー大統領は米西戦争に勝利してハワイやフィリピンを獲得し、太平洋に進出し、中国への門戸開放宣言をジョン＝ヘイに出させた。  
その後、共和党のT＝ローズヴェルトが棍棒外交を唱えて、カリブ海政策を遂行するなかで、ベネズエラからパナマを独立させ、新たに運河を着工した。

①	光栄ある孤立	②	(独露) 再保障	③	d	④	チュニジア
⑤	ベルリン会議	⑥	ディズレーリ	⑦	a	⑧	カイロ・カルカット・ケープタウン
⑨	世界政策	⑩	ヴィルヘルム2世	⑪	モロッコ	⑫	政教分離法
⑬	カルテル → A                    トラスト	⑬	イギリス → アメリカ B                    ロックフェラー → ロイター	⑭	サンディカリズム	⑮	フェビアン協定
⑯	第2インターナショナル	問	C	問	ハワイ → グアム		ベネズエラ → コロンビア