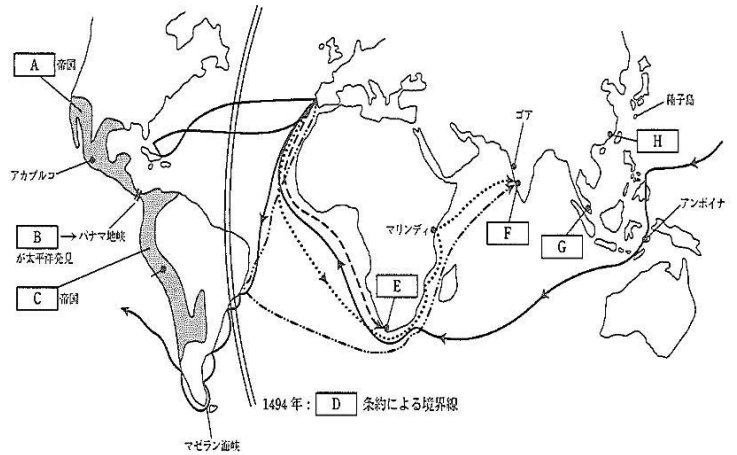


2020年度版 詳説世界史講義 復習テスト【問題】

～ 西洋史 第08講 ～

【地図1】(13問)

- ①Aを滅ぼした人物・Cの首都を書きなさい。
- ②C帝国と関係の深いものを2つ選びなさい。(完答)
あ：二十進法 い：独自の文字 う：キープ
え：ピラミッド お：サトウキビ か：太陽
- ③コロンブスと関係の深いものを2つ選びなさい。(完答)
あ：ブラジル い：ヴェネツィア う：トスカネリ
え：カルロス1世 お：パナマ か：西インド
- ④Dの条約名とFの到着地名を書きなさい。
- ⑤Eに初めて到着した時のポルトガル国王は誰か。
- ⑥地図上のゴアが占領される前年にポルトガルに敗れたイスラーム王朝は？
- ⑦地図上の世界一周に関係のある文章で、誤っている破線を2カ所正しく直しなさい。

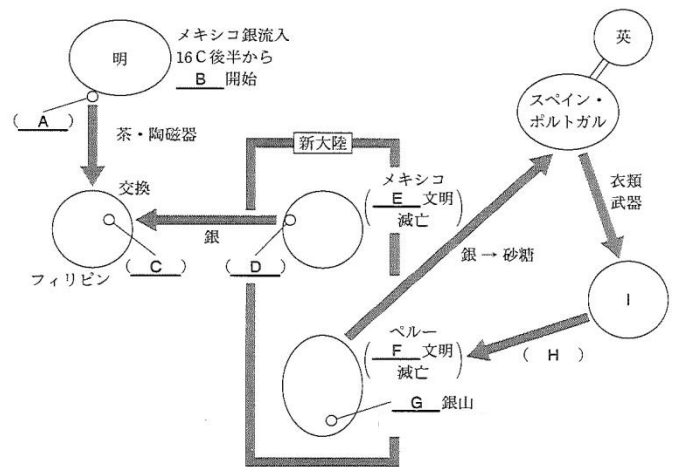


スペイン国王の支援を得たイタリア人のマゼランは、南米南端を通過して、太平洋と名付ける海に出た。その後、モルッカ諸島のマクタン島で原住民の頭領に殺された。しかし、16世紀前半に部下たちは世界一周を成し遂げた。

- ⑧エンコミエンダ制の目的を2つ書きなさい。
- ⑨次にあげる4人の航海士を活躍した順番に並べ替えなさい。
あ：バルトロメウ＝ディアス い：バルボア う：アメリゴ＝ヴェスプッチ え：コロンブス

【図解1】(7問)

- ①Cの都市名を書き。このCでメキシコ銀と中国物産を交換する貿易名も書きなさい。
- ②Gの銀山がある現在の国名を答えなさい。
- ③Hの虐待を報告したスペインの宣教師は誰か？
- ④Iには「■アフリカ」と入る。■に当てはまる東西南北は？
- ⑤図解右の三角貿易によりヨーロッパに起こされた商業革命にもっとも影響を与えた出来事を下から1つ選べ。
あ：イタリア＝ルネサンス開始 い：物価の高騰
う：大西洋岸の繁栄 え：スペイン絶対王政の衰退



- ⑥銀の流入が遠因となって、東欧世界で強化された農奴制をカタカナでなんというか？

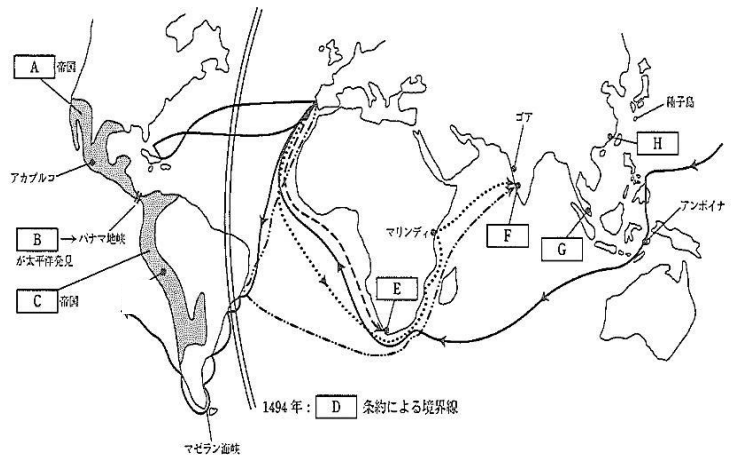
①	A :		C :	②		③	
④	D		F :	⑤		⑥	
⑦	→		→	⑧			
⑨		①	都市 :			②	
③		④		⑤		⑥	

2020年度版 詳説世界史講義 復習テスト【解答】

～ 西洋史 第08講 ～

【地図1】(13問)

- ①Aを滅ぼした人物・Cの首都を書きなさい。
- ②C帝国と関係の深いものを2つ選びなさい。(完答)
あ：二十進法 い：独自の文字 う：キープ
え：ピラミッド お：サトウキビ か：太陽
- ③コロンブスと関係の深いものを2つ選びなさい。(完答)
あ：ブラジル い：ヴェネツィア う：トスカネリ
え：カルロス1世 お：パナマ か：西インド
- ④Dの条約名とFの到着地名を書きなさい。
- ⑤Eに初めて到着した時のポルトガル国王は誰か。
- ⑥地図上のゴアが占領される前年にポルトガルに敗れたイスラーム王朝は？
- ⑦地図上の世界一周に関係のある文章で、誤っている破線を2カ所正しく直しなさい。

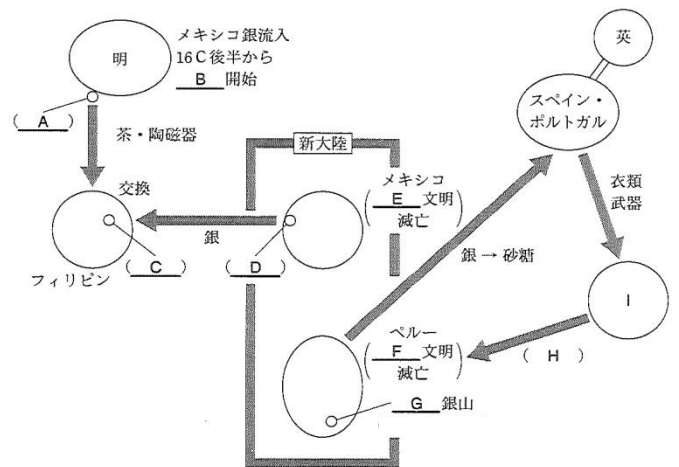


スペイン国王の支援を得たイタリア人のマゼランは、南米南端を通過して、太平洋と名付ける海に出た。その後、モルッカ諸島のマクタン島で原住民の頭領に殺された。しかし、16世紀前半に部下たちは世界一周を成し遂げた。

- ⑧エンコミエンダ制の目的を2つ書きなさい。
- ⑨次にあげる4人の航海士を活躍した順番に並べ替えなさい。
あ：バルトロメウ＝ディアス い：バルボア う：アメリカ＝ヴェスプッチ え：コロンブス

【図解1】(7問)

- ①Cの都市名を書き。このCでメキシコ銀と中国物産を交換する貿易名も書きなさい。
- ②Gの銀山がある現在の国名を答えなさい。
- ③Hの虐待を報告したスペインの宣教師は誰か？
- ④Iには「■アフリカ」と入る。■に当てはまる東西南北は？
- ⑤図解右の三角貿易によりヨーロッパに起こされた商業革命にもっとも影響を与えた出来事を下から1つ選べ。
あ：イタリア＝ルネサンス開始 い：物価の高騰
う：大西洋岸の繁栄 え：スペイン絶対王政の衰退
- ⑥銀の流入が遠因となって、東欧世界で強化された農奴制をカタカナでなんというか？



①	A：コルテス	C：クスコ	②	う・か	③	う・か
④	D：トルデシリヤス	F：カリカット	⑤	ジョアン2世	⑥	マムルーク朝
⑦	イタリア人 →ポルトガル人	モルッカ諸島 →フィリピン	⑧	先住民へのキリスト 教布教		先住民の保護
⑨	あ→え→う→い	① 都市：マニラ		アカプルコ貿易	②	ポリビア
⑩	ラス＝カサス	④ 西	⑤	う	⑥	ゲーツヘルシャフト