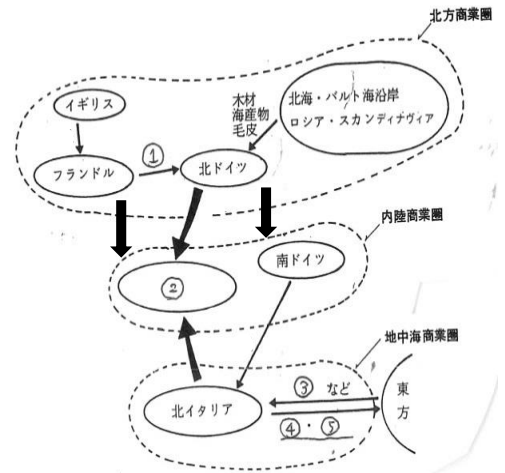


2020年度版 詳説世界史講義 復習テスト【問題】

～ 西洋史 第06講 ～

I. 中世都市の発達について右の図を見て、後の問いに答えなさい。(8問) 中世の商業圏と物資の動き

- ①この製品は? ②大定期市が開かれたこの地方名は?
- ③ここに当てはまる適切な商品の名前を下から選びなさい。
A: 香辛料 B: オリーブ C: 金貨 D: サトウキビ
- ④⑤ここで行われた貿易をカタカナで何というか? また、⑤に当てはまる銀により有名になった大富豪の家柄を書きなさい。 *④と①は同じモノ
- ⑥都市同盟・国家同盟について正しいモノを1つ選べ。
A: ロンバルディア同盟に盟主はリューベックである
B: カルマル同盟はハンザ同盟よりも前に結成された
C: ハンザ同盟は北ドイツのブリュージュなどにも拠点を置いた
D: 独帝フリードリヒ1世は都市同盟に撃退された
- ⑦大商人が生産・販売・価格等を統制・独占するために結成された組織の名前を書きなさい。
- ⑧特にドイツにおいて手工業者たちが⑦に対抗した闘争の名前をカタカナで何闘争というか書きなさい。



II. 東欧諸民族の動向について、後の問いに答えなさい。(6問) エルベ川

- ⑨右図のB・F・G・Hの民族名を完答せよ。
- ⑩A人の国がモンゴル人に荒廃させられた戦いを書きなさい。
- ⑪C人の国の大公が自称した称号の語源となった人物は誰か。
- ⑫E人の一時的に征服したビザンツ帝国の王朝は?
- ⑬図中の点線の右側で主に使用されていた文字を答えなさい。
- ⑭正しい文を1つ選びなさい。
A: セルビア人はカトリック B: ポーランド人は西スラヴ
C: クロアチア人は東方正教会 D: ハンガリー人はラテン系

西スラヴ

①A 人
・ピアストーヤグウォ朝
・18C末に分割(3回)

②B (チェック) 人
・モラヴィア王国
→ボヘミア王国
・神聖ローマに編入

[G] 人
・10C: ハンガリー王国
・1526年に領土の3/4をオスマン帝国に征服される

南スラヴ

①D 人
・ラテン文字・カトリック
・11C: ハンガリー王国に支配される

東スラヴ

①C 人
・ノルマン人と融合
・モンゴル支配脱してモスクワ大公国自立

[H] 人
・ラテン系・昔のダキア
・モルダヴィア、ワラキア公国

②E 人
・アジア系と融合
・オスマン帝国により征服

③F 人
・14C: バルカン半島の北部統一
・コンヴォの戦いで征服される

東ローマ(ビザンツ)帝国

III. ビザンツ帝国について、後の問いに答えなさい。(6問)

- ⑮ユスティニアヌスの業績として誤っているものを答えなさい。
あ: ヴァンダル王国征服 い: 最大版図を築く う: ハギア=ソフィア聖堂の再建 え: 軍管区制を制定
- ⑯ローマ法大全を編纂した法学者は誰か。 ⑰ビザンツ帝国の7世紀頃に公用語となった言語を答えなさい。
- ⑱バシレイオス2世の妹が嫁ぎ、ギリシア正教をロシアへ伝播する契機となったキエフ大公の名前を答えなさい。
- ⑲東西教会の完全分離の年号を答えなさい。 ⑳1453年、ビザンツ帝国を滅ぼした国の王の名前を答えなさい。

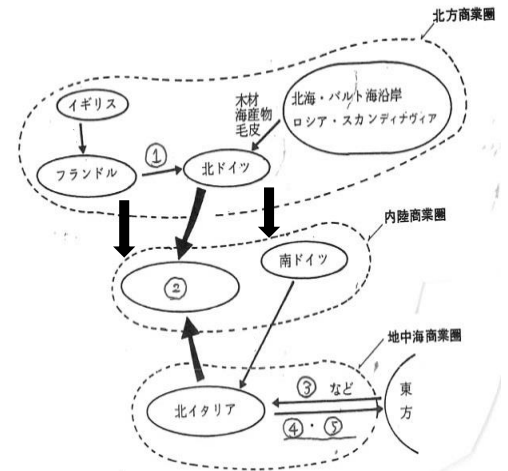
①	②	③	④
⑤	⑥	⑦	⑧
⑨	B: F: G: H:		
⑩		⑪	⑫
⑬	⑭	⑮	⑯
⑰	⑱	⑲	

2020年度版 詳説世界史講義 復習テスト【解答】

～ 西洋史 第06講 ～

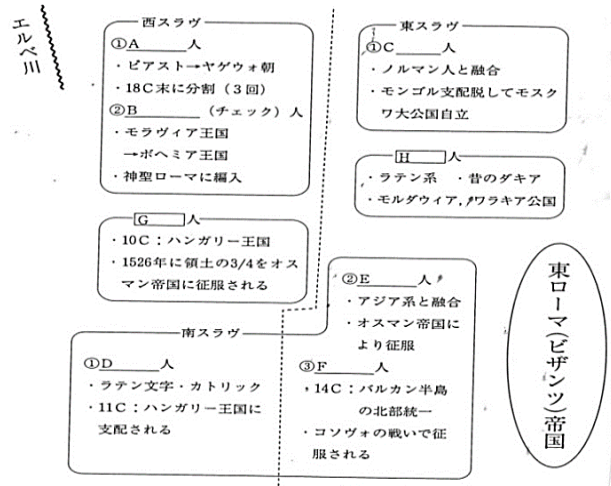
I. 中世都市の発達について右の図を見て、後の問いに答えなさい。(8問) 中世の商業圏と物資の動き

- ①この製品は？ ②大定期市が開かれたこの地方名は？
- ③ここに当てはまる適切な商品の名前を下から選びなさい。
A：香辛料 B：オリーブ C：金貨 D：サトウキビ
- ④⑤ここで行われた貿易をカタカナで何というか？また、⑤に当てはまる銀により有名になった大富豪の家柄を書きなさい。 *④と①は同じモノ
- ⑥都市同盟・国家同盟について正しいモノを1つ選べ。
A：ロンバルディア同盟に盟主はリュベックである
B：カルマル同盟はハンザ同盟よりも前に結成された
C：ハンザ同盟は北ドイツのブリュージュなどにも拠点を置いた
D：独帝フリードリヒ1世は都市同盟に撃退された
- ⑦大商人が生産・販売・価格等を統制・独占するために結成された組織の名前を書きなさい。
- ⑧特にドイツにおいて手工業者たちが⑦に対抗した闘争の名前をカタカナで何闘争というか書きなさい。



II. 東欧諸民族の動向について、後の問いに答えなさい。(6問)

- ⑨右図のB・F・G・Hの民族名を完答せよ。
- ⑩A人の国がモンゴル人に荒廃させられた戦いを書きなさい。
- ⑪C人の国の大公が自称した称号の語源となった人物は誰か。
- ⑫E人の一時的に征服したビザンツ帝国の王朝は？
- ⑬図中の点線の右側で主に使用されていた文字を答えなさい。
- ⑭正しい文を1つ選びなさい。
A：セルビア人はカトリック B：ポーランド人は西スラヴ
C：クロアチア人は東方正教会 D：ハンガリー人はラテン系



III. ビザンツ帝国について、後の問いに答えなさい。(6問)

- ⑮ユスティニアヌスの業績として誤っているものを答えなさい。
あ：ヴァンダル王国征服 い：最大版図を築く う：ハギア=ソフィア聖堂の再建 え：軍管区制を制定
- ⑯ローマ法大全を編纂した法学者は誰か。 ⑰ビザンツ帝国の7世紀頃に公用語となった言語を答えなさい。
- ⑱バシレイオス2世の妹が嫁ぎ、ギリシア正教をロシアへ伝播する契機となったキエフ大公の名前を答えなさい。
- ⑲東西教会の完全分離の年号を答えなさい。 ⑳1453年、ビザンツ帝国を滅ぼした国の王の名前を答えなさい。

①	毛織物	②	シャンパーニュ地方	③	A	④	レヴァント貿易
⑤	フッガー家	⑥	D	⑦	商人ギルド	⑧	ツンフト闘争
⑨	B ベーメン F セルビア G マジャール H ルーマニア (4個で完答)						
⑩	ワールシュタットの戦い			⑪	カエサル	⑫	マケドニア朝
⑬	キリル文字	⑭	B	⑮	え	⑯	トリボニアヌス
⑰	ギリシア語	⑱	ウラディミル1世	⑲	1054年	⑳	メフメト2世