

2020年版：詳説世界史講義 復習テスト【問題】

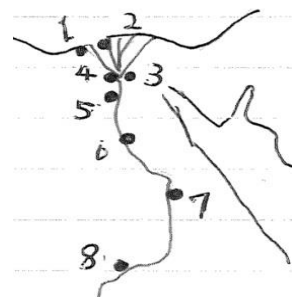
～ 東洋史 第01講 ～

I. 古代メソポタミアについて、後の問に答えなさい。(6問)


- ①前 3000 年頃にメソポタミア文明を形成したのはなに人？
- ②①の民族が神をまつるために各都市国家に建設した塔をカタカナで何という？
- ③メソポタミアに、初の統一国家を作ったのはなに人？
- ④ハンムラビ法典に関する文章として、正しいものを1つ選べ。
 あ：アラム人が作った い：平等な社会を目的とされた
 う：ヒエログリフで刻まれた え：現在はルーヴル美術館にある
- ⑤当時のオリエント地方を、考古学者プレステッドは何と表現したか？
- ⑥前 1500 年ごろに南下した民族について、誤りを含むものを一つ選びなさい。
 あ：ヒッタイト人は、初めて鉄製武器を使用した。 い：ヒッタイト人は、インド=ヨーロッパ語族に属した。
 う：ミタンニ王国は、アッシリア人の支配から台頭した。 え：カッシート人は、南メソポタミアに建国された。

II. 古代エジプトについて、後の問に答えなさい。(14問)

- ⑦“エジプトはナイルの賜”と言った歴史家は誰？
- ⑧太陽暦の基準として使われた星の名前をカタカナで何という？
- ⑨古代エジプトの王の称号は？
- ⑩古王国の都の名前は？ ⑪またその位置を地図の 1.4.6.7 から選べ。
- ⑫世界最大のピラミッドを作った王は？
- ⑬中王国滅亡の原因ともなった民族の総称とは？
- ⑭中王国の都の名前は？ ⑮またこの都で信仰されていた神の名前は？
- ⑯アメンホテプ 4 世が宗教改革を行った背景を 25 字前後で答えなさい。
- ⑰アメンホテプ 4 世が遷都した場所は？ ⑱またその位置を地図の 3.6.7.8 から選べ。
- ⑲新王国以降のエジプトについて、誤りを含むものを答えなさい。



ちなみに、3 には現在のカイロがある



- あ：アブシンベル神殿にカデシュの戦いに関することが壁画として残されている。
- い：王家の谷と呼ばれる歴代王の墓は現在のルクソールにある。
- う：ツタンカーメン王もアトン信仰を強制させた。 え：プトレマイオス朝はローマにより滅んだ。
- ⑲新王国以降のエジプトについて、誤りを含むものを答えなさい。
 あ：オベリスクにより太陽神ラーを奉った。 い：太陽暦を使用していた。
 う：ロゼッタ石に刻まれたヒエログリフをフランス人が解読した。
 え：来世信仰の現れとして作られた伝統的な「アマルナ美術」は有名である。

①		②		③		④	
⑤		⑥		⑦		⑧	
⑨		⑩		⑪		⑫	
⑬		⑭		⑮		⑯	
⑰		⑱		⑲		⑳	

2020年版：詳説世界史講義 復習テスト【解答】

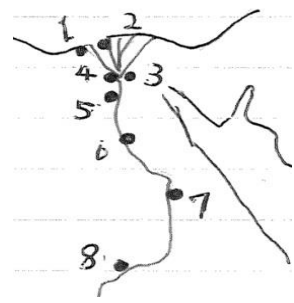
～ 東洋史 第01講 ～

I. 古代メソポタミアについて、後の問に答えなさい。(6問)

- ①前 3000 年頃にメソポタミア文明を形成したのはなに人？
 ②①の民族が神をまつために各都市国家に建設した塔をカタカナで何という？
 ③メソポタミアに、初の統一国家を作ったのはなに人？
 ④ハンムラビ法典に関する文章として、正しいものを1つ選べ。
 あ：アラム人が作った い：平等な社会を目的とされた
 う：ヒエログリフで刻まれた え：現在はルーヴル美術館にある
 ⑤当時のオリエント地方を、考古学者プレステッドは何と表現したか？
 ⑥前 1500 年ごろに南下した民族について、誤りを含むものを一つ選びなさい。
 あ：ヒッタイト人は、初めて鉄製武器を使用した。 い：ヒッタイト人は、インド=ヨーロッパ語族に属した。
 う：ミタンニ王国は、アッシリア人の支配から台頭した。 え：カッシート人は、南メソポタミアに建国された。

II. 古代エジプトについて、後の問に答えなさい。(14問)

- ⑦“エジプトはナイルの賜”と言った歴史家は誰？
 ⑧太陽暦の基準として使われた星の名前をカタカナで何という？
 ⑨古代エジプトの王の称号は？
 ⑩古王国の都の名前は？ ⑪またその位置を地図の 1.4.6.7 から選べ。
 ⑫世界最大のピラミッドを作った王は？
 ⑬中王国滅亡の原因ともなった民族の総称とは？
 ⑭中王国の都の名前は？ ⑮またこの都で信仰されていた神の名前は？
 ⑯アメンホテプ 4 世が宗教改革を行った背景を 25 字前後で答えなさい。
 ⑰アメンホテプ 4 世が遷都した場所は？ ⑱またその位置を地図の 3.6.7.8 から選べ。
 ⑲新王国以降のエジプトについて、誤りを含むものを答えなさい。



ちなみに、3 には現在のカイロがある



- あ：アブシンベル神殿にカデシュの戦いに関することが壁画として残されている。
 い：王家の谷と呼ばれる歴代王の墓は現在のルクソールにある。
 う：ツタンカーメン王もアトン信仰を強制させた。 え：プトレマイオス朝はローマにより滅んだ。
 ⑳エジプト文化において、誤りを含むものを答えなさい。
 あ：オベリスクにより太陽神ラーを奉った。 い：太陽暦を使用していた。
 う：ロゼッタ石に刻まれたヒエログリフをフランス人が解読した。
 え：来世信仰の現れとして作られた伝統的な「アマルナ美術」は有名である。

①	シュメール人	②	ジグurat	③	アッカド人	④	え
⑤	肥沃な三日月地帯	⑥	う	⑦	ヘロドトス	⑧	シリウス
⑨	ファラオ	⑩	メンフィス	⑪	4	⑫	クフ王
⑬	ヒクソス	⑭	テーベ	⑮	アモン (アメン)	⑯	アモン=ラーの神官団を政治から排除しようとした。
⑰	テル=エル=アマルナ	⑱	6	⑲	う	⑳	え