

2019年 詳説世界史 復習テスト

～ 第6講① 東洋史 §26 ～

●インド ①次の出来事を並べ替えなさい。

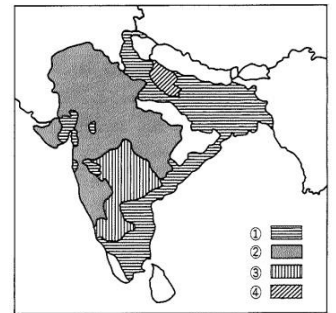
A:ブラッシーの戦い B:マラーター戦争 C:東インド会社解散 D:セポイの反乱

②組み合わせとして正しいものを選びなさい。

A:インド帝国 = 首都はデリー (成立時) B:マイソール = ヒンドゥー教

C:ボンベイ総督 = デュプレクス D:ビルマ = ムガル帝国に編入

③右の地図は1805年のインドの政治状況を示したものであるが、①～④のうちからイギリスの勢力圏を示すもの一つ選べ。



④初代ベンガル知事に就任した人物の名前を答えなさい。

⑤南インドにおいて行われていた、自作農から直接税金を徴収する税制を答えなさい。

●マレー半島

⑥シンガポールを買収したイギリス行政長官名を答えなさい。

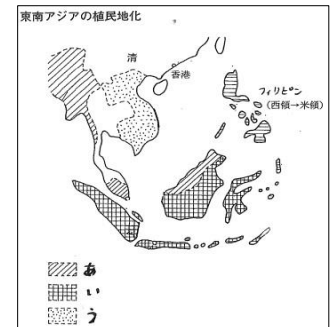
⑦1826年に3地域を合わせて成立したイギリス植民地の名を答えなさい。

⑧東南アジアの植民地化について、右の地図に示されている領土あ～うはそれぞれどこの国か。正しい組み合わせのものを選びなさい。

A:あ) イギリス い) オランダ う) フランス B: あ) イギリス い) フランス う) オランダ

C:あ) フランス い) イギリス う) オランダ D: あ) オランダ い) イギリス う) フランス

⑨マレー半島で採掘が行われた地下資源と天然資源の名前を書きなさい。(完答)



●ジャワ・スマトラ——⑩強制栽培制度を実施したオランダ総督名を答えなさい。

●ヴェトナム ⑪⑫阮朝に対してナポレオン3世はメコン川下流域を支配した後、翌年タイを保護国化した。その後、北部を占領したフランスはさらに、宗主国である清との清仏戦争にも勝利し、ユエ条約を結び、87年には仏領インドシナ連邦を成立させた。その後にラオスが連邦内に加わった。(誤りを2カ所直しなさい)

⑬ナム＝ディンの戦いや清仏戦争で活躍した黒旗軍を組織した軍人の名前を答えなさい。

⑭次の出来事を並べ替えなさい。

A: 天津条約 B: サイゴン条約 C:ユエ条約

●タイ ——⑮⑯19世紀、イギリスとオランダの緩衝地帯となっていたタイでは、ラーマ5世の時にイギリスとポーリング条約という不平等条約を結ばれ、その子の時代に西欧近代化が行われた。(誤りを2カ所直しなさい)

⑰タイの現王朝名を答えなさい。

●フィリピン ⑱⑲16世紀以降、フィリピンの(⑱)を仲介地として、(⑲)銀が中国に運ばれた。(空欄を2カ所埋めよ。)

⑳米西戦争後にアメリカに反抗した民族主義者の名前を答えなさい。

1		2		3		4	
5		6		7		8	
9		10		11		12	
13		14		15		16	
17		18		19		20	

2019年 詳説世界史 復習テスト（解答）

～ 第6講① 東洋史 §26 ～

●インド ①次の出来事を並べ替えなさい。

A:ブラッシーの戦い B:マラーター戦争 C:東インド会社解散 D:セポイの反乱

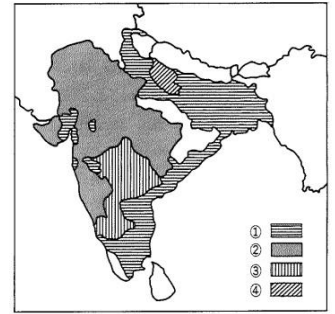
②組み合わせとして正しいものを選びなさい。

A:インド帝国 = 首都はデリー（成立時） B:マイソール = ヒンドゥー教
C:ボンベイ総督 = デュプレクス D:ビルマ = ムガル帝国に編入

③右の地図は1805年のインドの政治状況を示したものであるが、①～④のうちからイギリスの勢力圏を示すものを一つ選べ。

④初代ベンガル知事に就任した人物の名前を答えなさい。

⑤南インドにおいて行われていた、自作農から直接税金を徴収する税制を答えなさい。



●マレー半島

⑥シンガポールを買収したイギリス行政長官名を答えなさい。

⑦1826年に3地域を合わせて成立したイギリス植民地の名を答えなさい。

⑧東南アジアの植民地化について、右の地図に示されている領土あ～うはそれぞれどこの国か。正しい組み合わせのものを選びなさい。

A:あ) イギリス い) オランダ う) フランス B: あ) イギリス い) フランス う) オランダ
C:あ) フランス い) イギリス う) オランダ D: あ) オランダ い) イギリス う) フランス

⑨マレー半島で採掘が行われた地下資源と天然資源の名前を書きなさい。（完答）



●ジャワ・スマトラ——⑩強制栽培制度を実施したオランダ総督名を答えなさい。

●ヴェトナム ⑪⑫阮朝に対してナポレオン3世はメコン川下流域を支配した後、翌年タイを保護国化した。その後、北部を占領したフランスはさらに、宗主国である清との清仏戦争にも勝利し、ユエ条約を結び、87年には仏領インドシナ連邦を成立させた。その後にラオスが連邦内に加わった。（誤りを2カ所直しなさい）

⑬ナム＝ディンの戦いや清仏戦争で活躍した黒旗軍を組織した軍人の名前を答えなさい。

⑭次の出来事を並べ替えなさい。

A: 天津条約 B: サイゴン条約 C:ユエ条約

●タイ ——⑮⑯19世紀、イギリスとオランダの緩衝地帯となっていたタイでは、ラーマ5世の時にイギリスとポーリング条約という不平等条約を結ばれ、その子の時代に西欧近代化が行われた。（誤りを2カ所直しなさい）

⑰タイの現王朝名を答えなさい。

●フィリピン ⑱⑲16世紀以降、フィリピンの（⑱）を仲介地として、（⑲）銀が中国に運ばれた。（空欄を2カ所埋めよ。）

⑳米西戦争後にアメリカに反抗した民族主義者の名前を答えなさい。

1	A→B→D→C	2	B	3	①	4	クライヴ
5	ライヤットワーリー制	6	ラッフルズ	7	海峡植民地	8	A
9	錫 と ゴム	10	ファン＝デン＝ボス	11	タイ→カンボジア	11	ユエ条約→天津条約
				12		12	
13	劉永福	14	B→C→A	15	オランダ→フランス	15	ラーマ5世→ラーマ4世
				16		16	
17	ラタナコーシン朝	18	マニラ	19	メキシコ	20	アギナルド