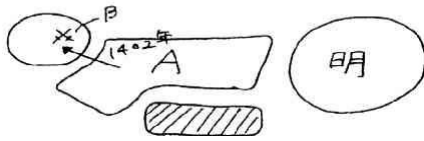


2019年 詳説世界史 復習テスト


～ 2学期 東洋史 第03講 ～

【図解問題(図解を見て答えよ)】

[14c末～]



[17c末～]



- ① Aが明遠征を行った理由を簡潔に書け。
- ② Aを滅ぼした民族は何か。
- ③ Bの戦いで捕虜になった皇帝は誰か。
- ④ Cの全盛期国王が建設・遷都した都市はどこか。
- ⑤ 東ローマ帝国を滅ぼしたDの皇帝名を書け。
- ⑥ スルタン=カリフ制はDが何朝を滅ぼして始まったか?
- ⑦ Dの全盛期国王が西王を破った1538年の海戦とは何か。
- ⑧ Eの国家名の由来を簡潔に書け。
- ⑨ Eの代表建造物タージ=マハル廟が建設された都市はどこか。
- ⑩ Eの国は、どこを征服して最大版図を達成したか?

【正誤・選択・並べ替え問題】

- ⑪ Cの王朝に関して、正しい文を1つ選べ。
 あ：成立当時、イランの住民の多くはゾロアスター教徒であった。 い：新都バグダードに、壮麗なモスクを建設した。
 う：全盛期のアッバース1世は、イエニチェリを創設した。 え：滅亡後、アフシャル朝、カージャール朝と続いた。
- ⑫ Cの王朝が建国された時の世界の動きについて、正しいものを選べ。
 あ：奴隸王朝が成立した。 い：明が滅亡した。 う：オスマン帝国がカイロを占領した。 え：江戸幕府が鎖国を始めた。
- ⑬ 3代アイバクは、デリーからアグラへと遷都し、ジズヤを廃止し、ヒンドゥー教徒を懐柔した。(誤りを1カ所訂正しなさい。)
- ⑭ 急進的なスンナ派であったアウラングゼーブは、父フマユーンを幽閉、マラーター・マイソール族と対立した。(誤りを1カ所訂正しなさい。)
- ⑮⑯⑰ エディルネからブルサに遷都したオスマン帝国はバルカン半島に進出、この頃マンサブダールを創設して軍備増強を図り、プレヴェザの海戦でハンガリー王を破り、ドナウ川下流域を制圧した。(誤りを3カ所訂正しなさい。)
- ⑱ Dの帝国が領土を拡大し、覇権を握り、衰退を始めるまえの過程に起きた出来事を並べ替えなさい。
 あ：マムルーク朝征服 い：第1次ウィーン包囲 う：アンカラの戦い え：レパント海戦
- ⑲ インド=イスラーム文化の具体例を説明したものとして正しいものを、次のから1つ選べ。
 あ：シク教 … マラーター族 い：ウルドゥー語 … バングラデシュ う：ペルシア語 … ムガル帝国の公用語
 え：ムガル絵画 … アラベスクの影響
- ⑳ 次のゴロ合わせを完成させなさい。【完答(笑)】
 “おす！()！ ムラツと バーヤ じつと () と () が いいぜ～ それ いいわ～ん。。。”

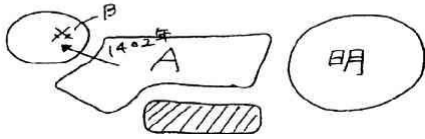
1		2		3		4	
5		6		7		8	
9		10		11		12	
13		14		15 ～ 17		15 ～ 17	
15～ 17		18		19		20	

2019年 詳説世界史 復習テスト (正解)


～ 2学期 東洋史 第03講 ～

【図解問題(図解を見て答えよ)】

[14c末～]



[17c末～]



- ① Aが明遠征を行った理由を簡潔に書け。
- ② Aを滅ぼした民族は何か。
- ③ Bの戦いで捕虜になった皇帝は誰か。
- ④ Cの全盛期国王が建設・遷都した都市はどこか。
- ⑤ 東ローマ帝国を滅ぼしたDの皇帝名を書け。
- ⑥ スルタン=カリフ制はDが何朝を滅ぼして始まったか?
- ⑦ Dの全盛期国王が西王を破った1538年の海戦とは何か。
- ⑧ Eの国家名の由来を簡潔に書け。
- ⑨ Eの代表建造物タージ=マハル廟が建設された都市はどこか。
- ⑩ Eの国は、どこを征服して最大版図を達成したか?

【正誤・選択・並べ替え問題】

- ⑪ Cの王朝に関して、正しい文を1つ選べ。
 あ：成立当時、イランの住民の多くはゾロアスター教徒であった。 い：新都バグダードに、壮麗なモスクを建設した。
 う：全盛期のアッバース1世は、イエニチェリを創設した。 え：滅亡後、アフシャル朝、カージャール朝と続いた。
- ⑫ Cの王朝が建国された時の世界の動きについて、正しいものを選べ。
 あ：奴隸王朝が成立した。 い：明が滅亡した。 う：オスマン帝国がカイロを占領した。 え：江戸幕府が鎖国を始めた。
- ⑬ 3代アイバクは、デリーからアグラへと遷都し、ジズヤを廃止し、ヒンドゥー教徒を懐柔した。(誤りを1カ所訂正しなさい。)
- ⑭ 急進的なスンナ派であったアウラングゼーブは、父フマユーンを幽閉、マラーター・マイソール族と対立した。(誤りを1カ所訂正しなさい。)
- ⑮⑯⑰ エディルネからブルサに遷都したオスマン帝国はバルカン半島に進出、この頃マンサブダールを創設して軍備増強を図り、プレヴェザの海戦でハンガリー王を破り、ドナウ川下流域を制圧した。(誤りを3カ所訂正しなさい。)
- ⑱ Dの帝国が領土を拡大し、覇権を握り、衰退を始めるまへの過程に起きた出来事を並べ替えなさい。
 あ：マムルーク朝征服 い：第1次ウィーン包囲 う：アンカラの戦い え：レパント海戦
- ⑲ インド=イスラーム文化の具体例を説明したものとして正しいものを、次のから1つ選べ。
 あ：シク教 … マラーター族 い：ウルドゥー語 … バングラデシュ う：ペルシア語 … ムガル帝国の公用語
 え：ムガル絵画 … アラベスクの影響
- ⑳ 次のゴロ合わせを完成させなさい。【完答(笑)】
 “おす! ()! ムラツと バーヤ じつと () と () が いいぜ～ それ いいわ～ん。。。”

1	モンゴル帝国の復興を目指した	2	ウズベク	3	バヤジット1世	4	イスファハン
5	メフメト2世	6	マムルーク朝	7	プレヴェザ	8	モンゴル帝国のインド訛りがムガルになる
9	アグラ	10	デカン高原	11	え	12	う
13	アイバク → アクバル	14	フマユーン → シャー=ジャハン	15 ～ 17	ブルサからエディルネに	15 ～ 17	マンサブダール→イエニチェリ
15～ 17	プレヴェザの海戦→ニコポリスの戦い	18	う→あ→い→え	19	う	20	満平、目踏め、スリム