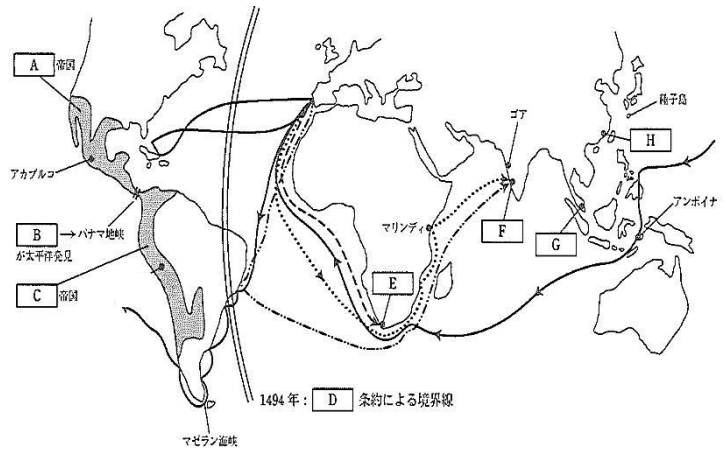


2018年度版 詳説世界史講義 復習テスト

～ 西洋史 第08講 ～

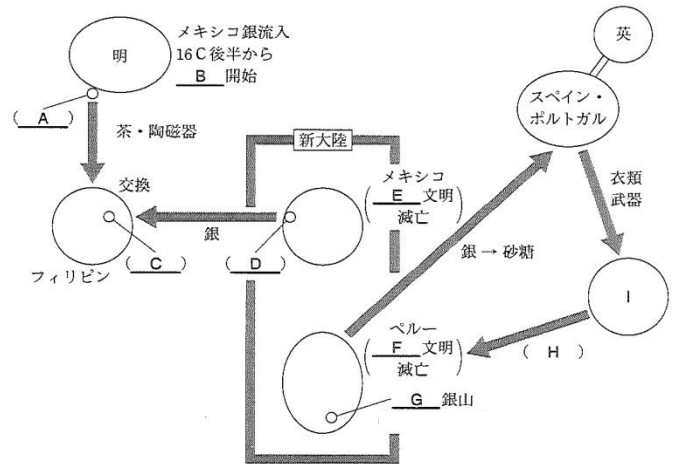
【地図1】(13問)

- ①Aを滅ぼした人物・Cの首都を書きなさい。
- ②C帝国と関係の深いものを2つ選びなさい。(完答)
あ：二十進法 い：独自の文字 う：キープ
え：ピラミッド お：サトウキビ か：太陽
- ③コロンブスと関係の深いものを2つ選びなさい。(完答)
あ：ブラジル い：ヴェネツィア う：トスカネリ
え：カルロス1世 お：パナマ か：西インド
- ④Dの条約名とFの到着地名を書きなさい。
- ⑤Eに初めて到着した時のポルトガル国王は誰か。
- ⑥地図上のゴアが占領される前年にポルトガルに敗れたイスラーム王朝は？
- ⑦地図上の世界一周に関係のある文章で、誤っている破線を2カ所正しく直しなさい。
スペイン国王の支援を得たイタリア人のマゼランは、南米南端を通過して、太平洋と名付ける海に出た。その後、モルッカ諸島のマクタン島で原住民の頭領に殺された。しかし、16世紀前半に部下たちは世界一周を成し遂げた。
- ⑧エンコミエンダ制の目的を2つ書きなさい。
- ⑨次にあげる4人の航海士を活躍した順番に並べ替えなさい。
あ：バルトロメウ＝ディアス い：バルボア う：アメリゴ＝ヴェスプッチ え：コロンブス



【図解1】(7問)

- ①Cの都市名を書き。このCでメキシコ銀と中国物産を交換する貿易名も書きなさい。
- ②Gの銀山がある現在の国名を答えなさい。
- ③Hの虐待を報告したスペインの宣教師は誰か？
- ④Iには「■アフリカ」と入る。■に当てはまる東西南北は？
- ⑤図解右の三角貿易によりヨーロッパに起こされた商業革命のもっとも近い影響を下から1つ選べ。
あ：イタリア＝ルネサンス開始 い：物価の高騰
う：大西洋岸の繁栄 え：スペイン絶対王政の衰退
- ⑥銀の流入が遠因となって、東欧世界で強化された農奴制をカタカナでなんというか？



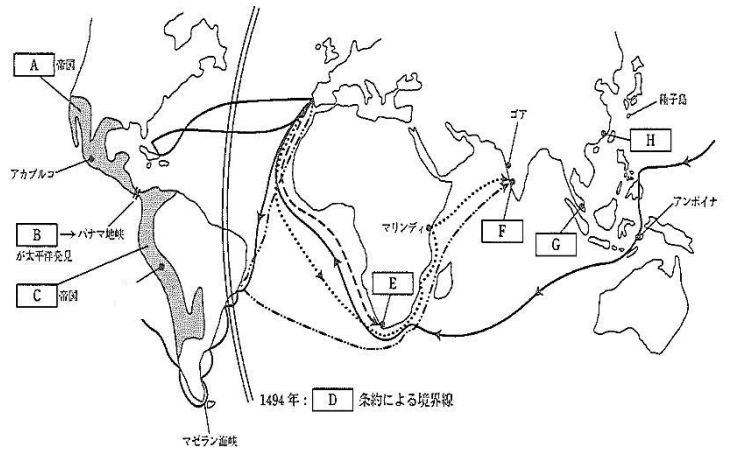
①	A :		C :		②		③	
④	D		F :		⑤		⑥	
⑦	→		→		⑧			
⑨		①	都市 :				②	
③		④			⑤		⑥	

2018年度版 詳説世界史講義 復習テスト（解答）

～ 西洋史 第08講 ～

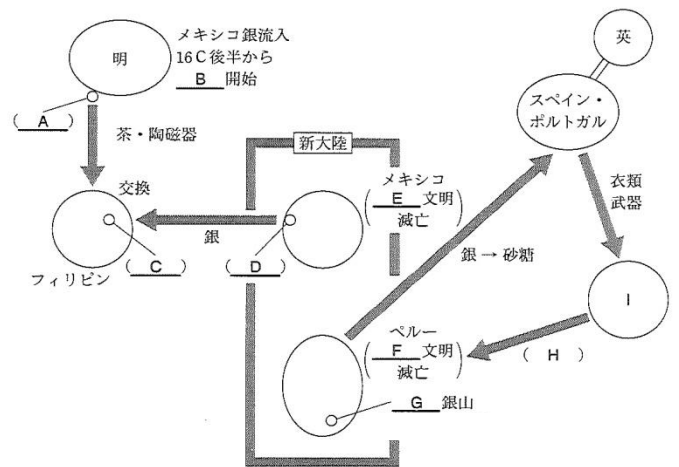
【地図1】（13問）

- ①Aを滅ぼした人物・Cの首都を書きなさい。
- ②C帝国と関係の深いものを2つ選びなさい。（完答）
あ：二十進法 い：独自の文字 う：キープ
え：ピラミッド お：サトウキビ か：太陽
- ③コロンブスと関係の深いものを2つ選びなさい。（完答）
あ：ブラジル い：ヴェネツィア う：トスカネリ
え：カルロス1世 お：パナマ か：西インド
- ④Dの条約名とFの到着地名を書きなさい。
- ⑤Eに初めて到着した時のポルトガル国王は誰か。
- ⑥地図上のゴアが占領される前年にポルトガルに敗れたイスラーム王朝は？
- ⑦地図上の世界一周に関係のある文章で、誤っている破線を2カ所正しく直しなさい。
スペイン国王の支援を得たイタリア人のマゼランは、南米南端を通過して、太平洋と名付ける海に出た。その後、モルッカ諸島のマクタン島で原住民の頭領に殺された。しかし、16世紀前半に部下たちは世界一周を成し遂げた。
- ⑧エンコミエンダ制の目的を2つ書きなさい。
- ⑨次にあげる4人の航海士を活躍した順番に並べ替えなさい。
あ：バルトロメウ＝ディアス い：バルボア う：アメリゴ＝ヴェスプッチ え：コロンブス



【図解1】（7問）

- ①Cの都市名を書き。このCでメキシコ銀と中国物産を交換する貿易名も書きなさい。
- ②Gの銀山がある現在の国名を答えなさい。
- ③Hの虐待を報告したスペインの宣教師は誰か？
- ④Iには「■アフリカ」と入る。■に当てはまる東西南北は？
- ⑤図解右の三角貿易によりヨーロッパに起こされた商業革命の最も近い影響を下から1つ選べ。
あ：イタリア＝ルネサンス開始 い：物価の高騰
う：大西洋岸の繁栄 え：スペイン絶対王政の衰退
- ⑥銀の流入が遠因となって、東欧世界で強化された農奴制をカタカナでなんというか？



①	A：コルテス	C：クスコ	②	う・か	③	う・か
④	D：トルデシヤス	F：カリカット	⑤	ジョアン2世	⑥	マムルーク朝
⑦	イタリア人 →ポルトガル人	モルッカ諸島 →フィリピン	⑧	先住民へのキリスト 教布教		先住民の保護
⑨	あ→え→う→い	① 都市：マニラ		アカプルコ貿易	②	ボリビア
③	ラス＝カサス	④ 西	⑤	う	⑥	グーツヘルシャフト